

Ecole ..... ..... Classe de Mr/Mme : ..... Groupe .....	<b>DEFI MATHS 2016-2017</b> <b>CP-CE1-CE2</b> <b>1ère Manche</b>	TOTAL DES POINTS
---	--	------------------

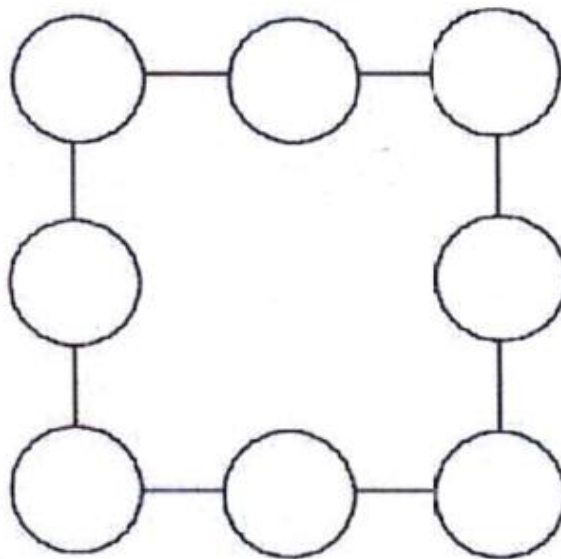


Double les points pour l'exercice N° .....

**Problème n°1 : Un carré magique**

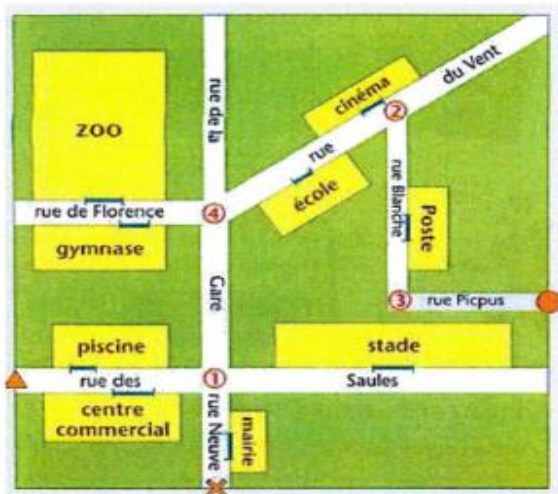
**/8 POINTS**

Ecrire les nombres de 1 à 8 dans les ronds une seule fois chacun. En additionnant les trois nombres des côtés du carré, il faut toujours obtenir le même résultat 12 :



**Problème n°2 : Les carrefours**

**/ 12 POINTS**



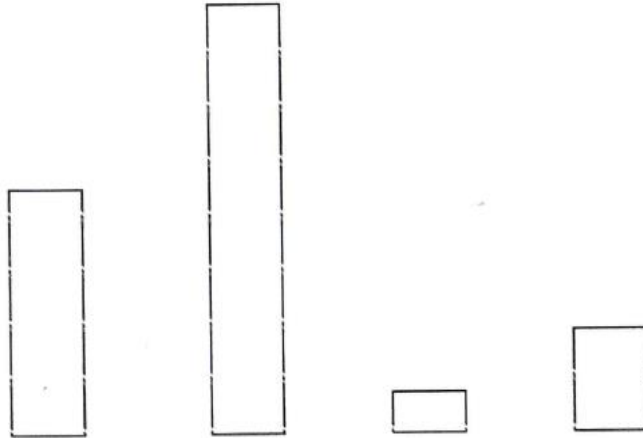

Ecris les numéros de carrefours où se trouvent ces panneaux indicateurs.



**Problème N° 3 :**

**/8 POINTS**

Relie chaque animal (selon sa taille) à sa bande.

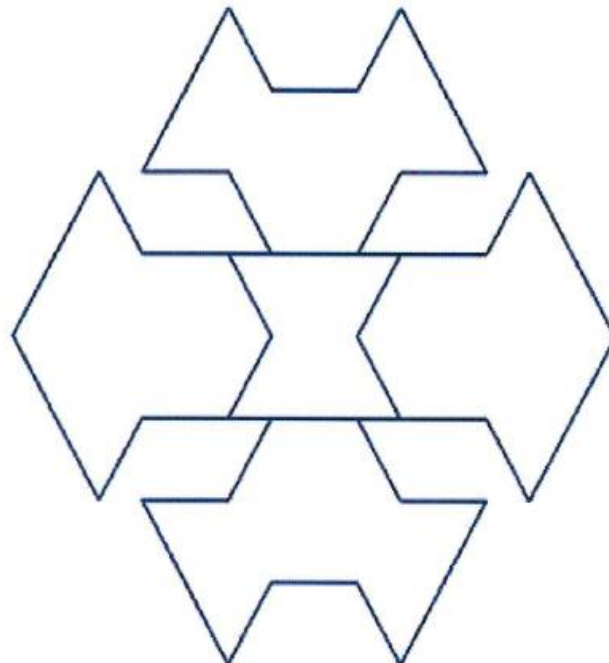


**Problème n°4 : Le chiffre 4**

**/8 POINTS**

Géométrus le dragon peut être entièrement recouvert avec les formes dessinées à gauche. On peut utiliser les deux formes autant de fois que l'on veut.

**On veut utiliser le moins de formes possible. Combien ?**



Réponse :



.....



.....

Problème N° 5 :

/ 6 POINTS



Parmi les nombres de 0 à 60, combien de nombres s'écrivent avec le chiffre 4 ?

.....


.....

Problème N°6 :

/ 6 POINTS

Colorie tous les soleils en jaune ou en bleu. Tu dois avoir 3 soleils jaunes de plus que de soleils bleus.

Combien as-tu colorié de soleils jaunes ? Il y a ..... de soleils jaunes.



.....